


Kraje ČR (úvod) – QR kódy




Děkuji za zakoupení materiálu, moc si toho vážím!

Zároveň děkuji, že respektujete autorská práva, proto



je v pořádku když

- materiály nekomerčně využíváte pro svou vlastní potřebu
- materiály poskytujete žákům pouze v tištěné podobě



není v pořádku když

- materiály využíváte komerčně
- rozesíláte, kopírujete či sdílíte materiál třetím osobám (kolegům, rodičům,..)

Pokud v materiálu objevíte chybu, nebo k němu máte dotazy, kontaktujte mě na e-mailu klaradundrova@seznam.cz

K čemu je materiál určený:

Materiál je vhodný do hodin zeměpisu k tématu Kraje ČR.

Žáci pracují ve dvojici či větší skupině, přičemž do každé dostanou list vytištěným QR kódem. QR kód není kompletní, a jeho doplnění je úkolem žáků. Odpovídají na otázky v pracovním listu a podle čísla otázky (úkolu) buď vybarvují nebo nevybarvují pole v QR kódu. Když je QR kód kompletní, mohou ho žáci pomocí mobilního telefonu či tabletu načíst a přečíst si tajenku či vzkaz.

Pro některé části je potřeba práce s internetem či atlasem.

Součástí je také správné řešení.

Co materiál obsahuje a jak s ním pracovat:

- Materiál obsahuje QR kódy s prázdnými poli, které žáci na základě pracovních listů doplňují.
- Součástí je správné řešení
- Na práci lze využít práci s internetem, atlasem, textem apod.
- Listy s QR kódy je třeba vytisknout, černobílý tisk je dostačující
- doporučuji vybarvovat nejprve obyčejnou tužkou, v případě i jediné chyby nebude QR kód správně fungovat
- aktivitu lze využít i v případě online výuky, kdy žáci mohou vybarvovat pole např. v Malování



Co se dozvíš z QR kódu:

1.

Jaký objekt v Česku se nachází v Guinnessově knize rekordů?

bonusový úkol - zjisti důvod zápisu do knihy rekordů

Číslo	Otázka	Vybarvit	Nevybarvit
1.	Každý kraj má:	hymnu a znak	vlajku a znak
2.	Je Hlavní město Praha nejmenším krajem?	ano	ne
3.	Na kolik krajů se v současnosti dělí ČR?	14	12
4.	Do jakého století sahají první zmínky o krajích?	18.	13.
5.	Na kolik zemí se dělilo naše území v roce 1918?	3	2
6.	Na kolik krajů se rozdělovalo naše území v letech 1960-1989?	8	10
7.	V jakém kraji se v letech 1960-1989 nacházely Karlovy Vary?	Severočeský	Západočeský
8.	Krajské město Moravskoslezského kraje je:	Olomouc	Ostrava
9.	V jakých letech bylo území rozděleno na Protektorát Čechy a Morava?	1914-1918	1939-1945



Správné řešení



Vybarvují se pole č.: 2, 3, 5, 6

Nevybarvují se pole č.: 1, 4, 7, 8, 9

Tajenka: Pražský hrad

nejrozsáhlejší hradní komplex na světě

