

PŘÍKLADY S TAJENKOU

ZDARMA ukázka

Příklady od 0-20 na +, -. barevná x černobílá verze

JMÉNO: _____

Vypočítej příklady. Do žlutých rámečků přiřaď k výsledkům písmenka z tabulky. Pojmenuješ tak holčičky na obrázku.

10	15	18	19	12	20	16	14	11	13
O	N	P	T	K	R	E	A	I	L

$5 + 10 =$	
$3 + 8 =$	
$7 + 5 =$	
$4 + 6 =$	
$9 + 4 =$	

$9 + 9 =$	
$8 + 8 =$	
$5 + 12 =$	
$10 + 10 =$	
$7 + 7 =$	



JMÉNA HOLČÍČEK: _____

JMÉNO: _____

Vypočítej příklady. Do žlutých rámečků přiřaď k výsledkům písmenka z tabulky. Pojmenuješ tak slony na obrázku.

1	15	10	8	9	7	5	3	4	0
A	P	N	G	K	U	U	I	N	A

$5 - 5 =$	
$15 - 6 =$	
$17 - 9 =$	
$15 - 8 =$	
$12 - 8 =$	

$19 - 4 =$	
$16 - 11 =$	
$20 - 10 =$	
$15 - 12 =$	
$17 - 10 =$	



SLONI JMÉNA: _____

PŘÍKLADY S TAJENKOU

Ukázka mých produktů, které si můžete zakoupit u mě na profilu, kde najdete i tajenky na násobení a dělení, běhací hry, plácačky...

JMÉNO:

Vypočítej příklady. Do žlutých rámečků přiřaď k výsledkům písmenka z tabulky. Pojmenuješ tak holčičky na obrázku.

10	15	18	19	12	20	16	14	11	13
O	N	P	T	K	R	E	A	I	L

$5 + 10 =$	
$3 + 8 =$	
$7 + 5 =$	
$4 + 6 =$	
$9 + 4 =$	

$9 + 9 =$	
$8 + 8 =$	
$5 + 12 =$	
$10 + 10 =$	
$7 + 7 =$	



JMÉNA HOLČIČEK: _____

JMÉNO:

Vypočítej příklady. Do žlutých rámečků přiřaď k výsledkům písmenka z tabulky. Pojmenuješ tak chlapce na obrázku.

20	12	16	14	13	9	5	11	8	7
L	O	N	I	M	A	I	S	B	R

$12 - 4 =$	
$20 - 8 =$	
$15 - 8 =$	
$11 - 6 =$	
$20 - 9 =$	

$17 - 4 =$	
$19 - 5 =$	
$20 - 0 =$	
$18 - 9 =$	
$18 - 2 =$	



JMÉNA CHLAPCŮ: _____

JMÉNO:

Vypočítej příklady. Do žlutých rámečků přiřaď k výsledkům písmenka z tabulky. Pojmenuješ tak pejsky na obrázku.

17	10	12	16	20	13	18	15	11	14
Ž	B	R	Y	A	O	K	N	E	R

$5 + 5 =$	
$18 + 2 =$	
$7 + 7 =$	
$4 + 9 =$	
$12 + 3 =$	

$8 + 9 =$	
$9 + 2 =$	
$6 + 6 =$	
$9 + 7 =$	
$9 + 9 =$	



JMÉNA PEJSKŮ: _____


JMÉNO:

Vypočítej příklady. Do žlutých rámečků přiřaď k výsledkům písmenka z tabulky. Pojmenuješ tak slony na obrázku.

1	15	10	8	9	7	5	3	4	0
A	P	Ň	G	R	O	U	Ť	N	A

$5 - 5 =$	
$15 - 6 =$	
$17 - 9 =$	
$15 - 8 =$	
$12 - 8 =$	

$19 - 4 =$	
$16 - 11 =$	
$20 - 10 =$	
$15 - 12 =$	
$17 - 16 =$	



SLONÍ JMÉNA: _____

JMÉNO:

Vypočítej příklady. Do žlutých rámečků přiřaď k výsledkům písmenka z tabulky. Pojmenuješ tak holčičky na obrázku.

10	15	18	19	12	20	16	14	11	13
O	N	P	T	K	R	E	A	I	L

$5 + 10 =$	
$3 + 8 =$	
$7 + 5 =$	
$4 + 6 =$	
$9 + 4 =$	

$9 + 9 =$	
$8 + 8 =$	
$5 + 12 =$	
$10 + 10 =$	
$7 + 7 =$	



JMÉNA HOLČIČEK: _____

JMÉNO:

Vypočítej příklady. Do žlutých rámečků přiřaď k výsledkům písmenka z tabulky. Pojmenuješ tak chlapce na obrázku.

20	12	16	14	13	9	5	11	8	7
L	O	N	I	M	A	I	S	B	R

$12 - 4 =$	
$20 - 8 =$	
$15 - 8 =$	
$11 - 6 =$	
$20 - 9 =$	

$17 - 4 =$	
$19 - 5 =$	
$20 - 0 =$	
$18 - 9 =$	
$18 - 2 =$	



JMÉNA CHLAPCŮ: _____


JMÉNO:

Vypočítej příklady. Do žlutých rámečků přiřaď k výsledkům písmenka z tabulky. Pojmenuješ tak pejsky na obrázku.

17	10	12	16	20	13	18	15	11	14
Ž	B	R	Y	A	O	K	N	E	R

$5 + 5 =$	
$18 + 2 =$	
$7 + 7 =$	
$4 + 9 =$	
$12 + 3 =$	

$8 + 9 =$	
$9 + 2 =$	
$6 + 6 =$	
$9 + 7 =$	
$9 + 9 =$	



JMÉNA PEJSKŮ: _____


JMÉNO:

Vypočítej příklady. Do žlutých rámečků přiřaď k výsledkům písmenka z tabulky. Pojmenuješ tak slony na obrázku.

1	15	10	8	9	7	5	3	4	0
A	P	Ň	G	R	O	U	Ť	N	A

$5 - 5 =$	
$15 - 6 =$	
$17 - 9 =$	
$15 - 8 =$	
$12 - 8 =$	

$19 - 4 =$	
$16 - 11 =$	
$20 - 10 =$	
$15 - 12 =$	
$17 - 16 =$	



SLONÍ JMÉNA: _____