

Jméno: \_\_\_\_\_

## JAK ZACHRÁNIT PRINCEZNU?

Pomoz princovi vysvobodit jeho princeznu. Splň všechny úkoly a zjistíš, kde je uvězněna.

1. ÚKOL - Vypočítej příklady v tabulce a vybarvi políčko se správným výsledkem a slabikou. Po vypočtení přečti tajenku zdola nahoru.

$4 \cdot (42 - 37) =$	20	JE	16	NE
$36 : 4 + 36 =$	44	LA	45	NA
$35 + 26 + 18 =$	89	PŘI	79	CEZ
$(63 - 39) : 3 =$	8	PRIN	9	KRUM

PRVNÍ ČÁST TAJENKY: \_\_\_\_\_

2. ÚKOL – Vypočti příklady. Podle výsledku (čísla) napiš písmeno podle pořadí v abecedě (1 = A, 2 = B, 3 = C...). U některých písmen doplň háček nebo čárku.

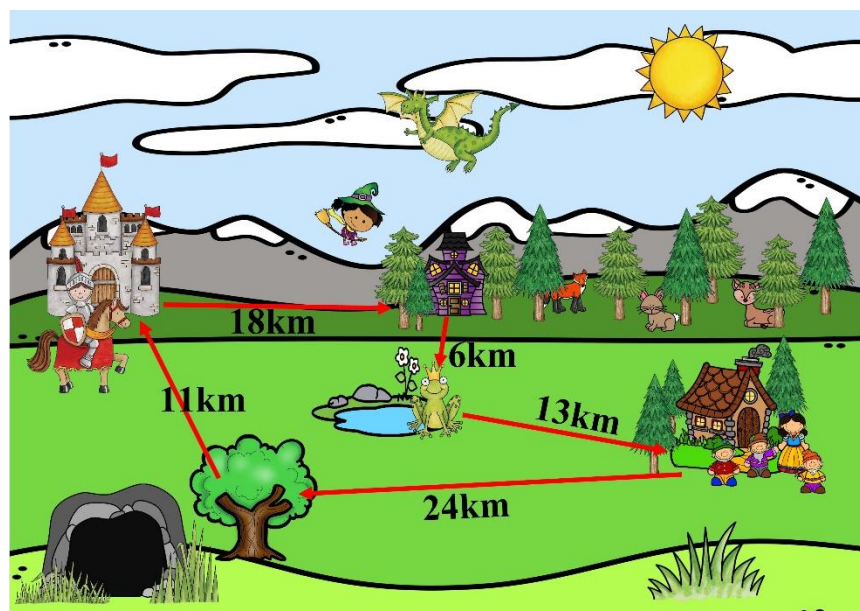
	$7 \cdot 4$	$33 - 4$	$35 : 5$	$8 \cdot 4 + 1$	$5 \cdot 4 - 3$	$21 : 3$	$42 - 25$	$4 : 4$
Výsledek								
Písmeno abecedy								

Druhá část tajenky: \_\_\_\_\_.

3. ÚKOL – Princ se vydal hledat princeznu, ale protože nevěděl, kam se má vydat, musel to zjistit. Nejprve se vydal k čarodějnici. Ta ho poslala k zakletému žabákovi. Žabák prý slyšel, že něco ví Sněhurka. Ta mu prozradila, že odpověď najde ve starém dubu.

Spočítej, kolik km princ ujel. Pod výsledek napiš správná písmena. Získáš tak další část tajenky.

<b>I</b>	<b>A</b>	<b>E</b>	<b>K</b>	<b>L</b>	<b>M</b>	<b>N</b>	<b>V</b>	<b>P</b>	<b>Z</b>
<b>0</b>	<b>1</b>	<b>2</b>	<b>3</b>	<b>4</b>	<b>5</b>	<b>6</b>	<b>7</b>	<b>8</b>	<b>9</b>



Princ ujel 


 km.

Třetí část tajenky \_\_\_\_\_.

4. ÚKOL – Vypočítej písemné sčítání a odčítání. Do tabulky seřaď výsledky od nejmenšího po největší a přiřaď k nim písmena, která jsou nad příklady s daným výsledkem.

S	O	É	V	K	Y
34	94	47	64	37	85
<u>25</u>	<u>- 32</u>	<u>45</u>	<u>- 26</u>	<u>54</u>	<u>- 29</u>
.....	.....	.....	.....	.....	.....


Čtvrtá část tajenky \_\_\_\_\_.

5. ÚKOL – Vyřeš slovní úlohu a podle výsledku najdi slovo, které je další částí tajenky.

V lese žije Sněhurka a 7 trpaslíků. V nedaleké jeskyni žijí loupežníci. Těch je 3krát více než trpaslíků. **Kolik žije v jeskyni loupežníků?**

trpaslíků ..... \_\_\_\_\_

loupežníků ..... \_\_\_\_\_

loupežníků ..... ?

O: \_\_\_\_\_

10 – okně

21 – věži

24 – komnatě

35 – sklepení

Pátá část tajenky je: \_\_\_\_\_.

6. ÚKOL – Vypočítej obě části příkladu, porovnej. Která část je větší? Vpravo nebo vlevo?

Strana většího výsledku je další částí tajenky.

VLEVO		VPRAVO
(36 – 8) : 4 + 38		(5 · 4) + 35

6. část tajenky : \_\_\_\_\_.

TAJENKA ZNÍ:

---



---

## JAK MATERIÁL POUŽÍT?

**Čas – s dětmi jsme to zvládli za 2 vyučovací hodiny.**

1) Úvod – povídejte dětem pohádku (příběh) o princezně, do které se zamiloval krásný a hodný princ a zlý černokněžník. Princezna si černokněžníka nechtěla vzít, tak ji zavřel do jedné místnosti na hradě. Protože ji princ miloval, chtěl ji vysvobodit, ale měl jen jeden pokus otevřít komnatu, ve které princezna byla. Kdyby se mu to nepovedlo, princezna by v komnatě zůstala už navždy zavřená. Princ se jednoho dne zdálo, že mu s tím mohou pomoci děti. ...

Nebo si vymyslete svou vlastní pohádku. Určitě vás něco napadne.

Ukažte dětem úvodní obrázek hradu (bez princezny v okně), kde princezna bydlí. Obrázek můžete promítnout na tabuli – pokud máte ve třídě dataprojektor nebo interaktivní tabuli.

2) Pracovní list – můžete vypracovat s dětmi společně (já promítám list i na tabuli – děti chodí vypracovávat na tabuli a zároveň vypracují pracovní list (každý dostane nakopírovaný)).

U úkolu č.3 zase pustím dětem na tabuli obrázek cesty prince. Povídám jim při tom příběh, který je krátce popsán v zadání u úkolu (...ještě ho víc rozvinu, aby byl napínavější...)

3) Pokud dětem vyšla tajenka, ukážu závěrečný obrázek – hrad, kde je v okýnku princezna. Mé děti se dohadovaly nad tím, že to není nejvyšší věž... Ona je nejvyšší ... v prostřední části hradu jsou 2 věžičky ještě výše, ale nejsou tak vysoké...

4) Ukončení – můžete si povídat např. jak se kdysi žilo na hradech, můžete si přečíst pohádku, můžete si na tabuli napsat jednu větu o zakleté princezně a určovat slovní druhy.... Prostě si můžete udělat den celý pohádkový.

Řešení:

Úkol 1: Princezna je

Úkol 2: uvězněna

Úkol 3: ve

Úkol 4: vysoké


Úkol 5: věži

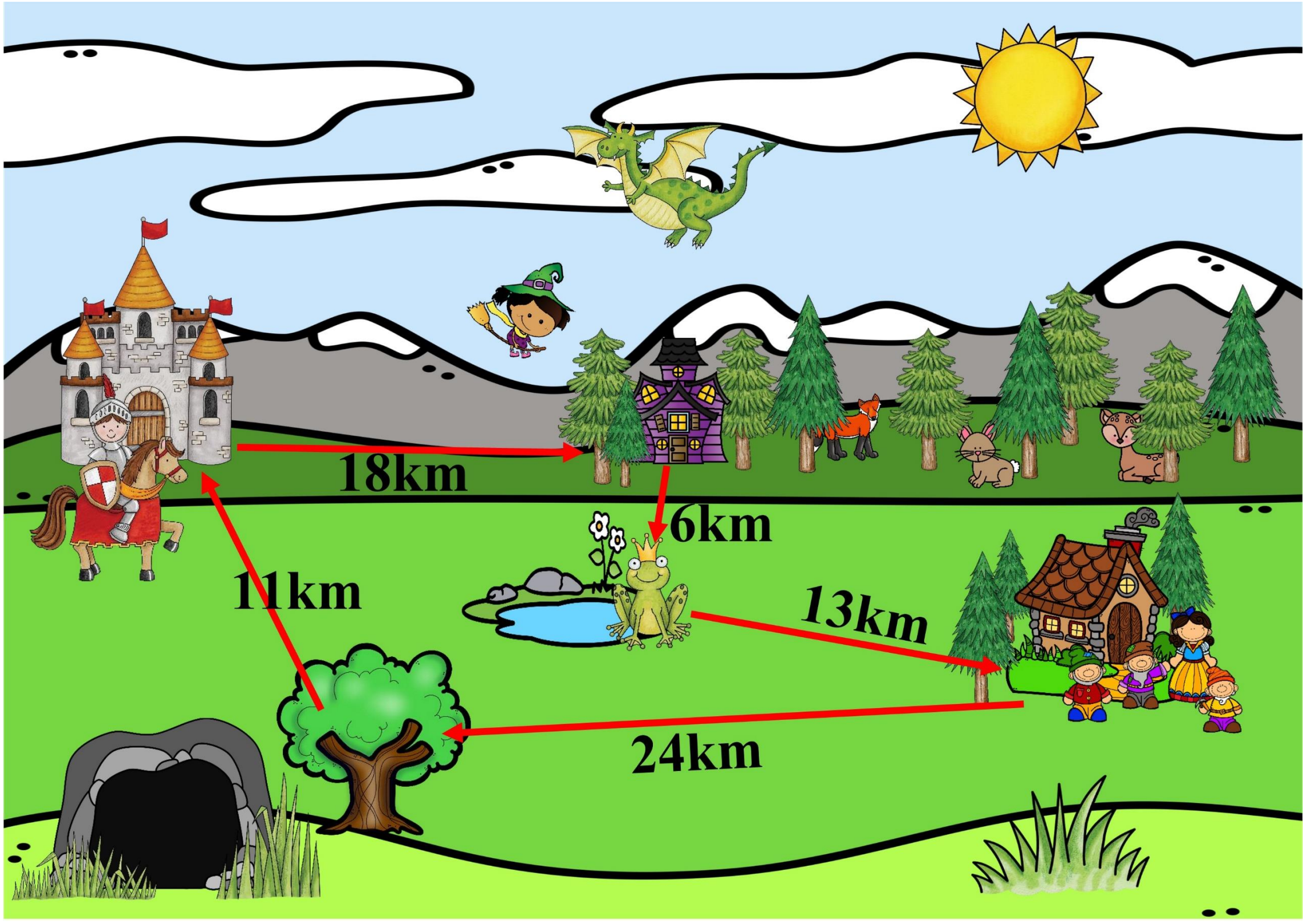
Úkol 6: vpravo

Celá tajenka: Princezna je uvězněna ve vysoké věži vpravo.

V materiálu jsou použity obrázky:







18km

6km

13km

24km

11km

