



Matematická rozcvička – prosinec

Postup:

Zalaminujte a rozstříhejte karty s obrázky a čísla (obrázek s číslem nechte vždy u pospolu). Tyto karty rozmístěte po třídě/chodbě. Každý žák obdrží pracovní list s příklady a jeho úkolem je zjistit, jaké číslo představují dané obrázky a následně příklady vypočítat.



0

1

2

3

4








5




6

7

8

9





Řešení:

$$6 \cdot 9 = 54$$

$$25 : 5 = 5$$

$$8 : 2 = 4$$

$$4 \cdot 3 = 12$$

$$10 \cdot 7 = 70$$

$$48 : 6 = 8$$

$$7 \cdot 1 = 7$$

$$0 : 9 = 0$$

$$5 \cdot 8 = 40$$

$$20 : 4 = 5$$

$$81 : 9 = 9$$

$$6 \cdot 4 = 24$$

$$3 \cdot 7 = 21$$

$$56 : 8 = 7$$

$$18 : 3 = 6$$

$$50 : 10 = 5$$

$$3 \cdot 5 = 15$$

$$9 \cdot 2 = 18$$

$$49 : 7 = 7$$

$$16 : 8 = 2$$