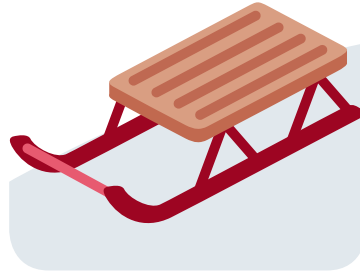




# Matematická rozcvička – leden

## Postup:

**Zalaminujte a rozstříhejte karty s obrázky a čísla (obrázek s číslem nechte vždy u pospolu). Tyto karty rozmístěte po třídě/chodbě. Každý žák obdrží pracovní list s příklady a jeho úkolem je zjistit, jaké číslo představují dané obrázky a následně příklady vypočítat.**




0

1

2

3

4




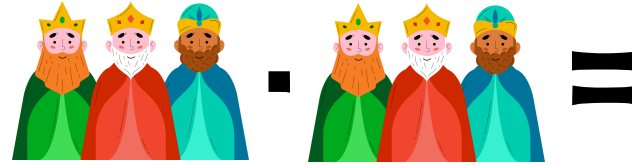
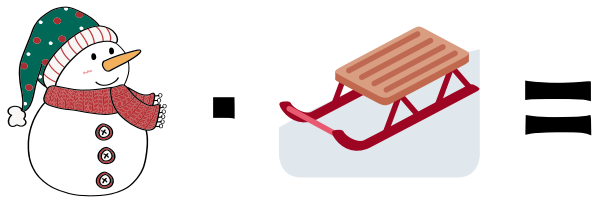

5


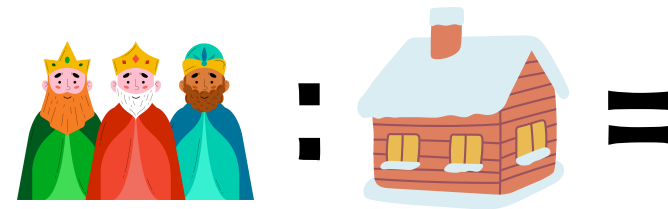
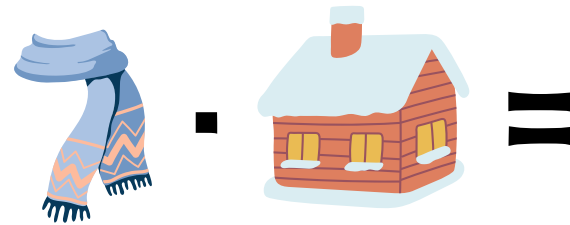



6

7

8

9





**Řešení:**

$$3 \cdot 8 = 24$$

$$20 : 5 = 4$$

$$10 \cdot 6 = 60$$

$$40 : 8 = 5$$

$$1 \cdot 2 = 2$$

$$24 : 4 = 6$$

$$9 \cdot 9 = 81$$

$$5 \cdot 7 = 35$$

$$16 : 2 = 8$$

$$30 : 5 = 6$$

$$1 \cdot 10 = 10$$

$$15 : 5 = 3$$

$$42 : 6 = 7$$

$$8 \cdot 7 = 56$$

$$3 \cdot 9 = 27$$

$$18 : 3 = 6$$

$$45 : 9 = 5$$

$$4 \cdot 3 = 12$$

$$9 : 3 = 3$$

$$0 : 7 = 0$$