

PRŮVODNÍ LIST

Najdi někoho, kdo...

1. K čemu materiál slouží?

- materiál můžete využít k výuce nebo opakování učiva druhého ročníku ZŠ

2. Materiál použijte

- při výuce ve škole
- pro vlastní potřebu
- při domácím vzdělávání

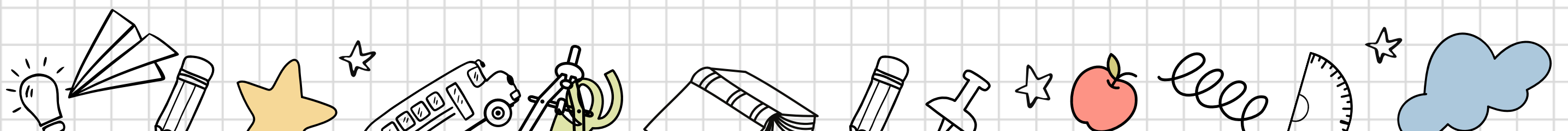

3. Materiál prosím

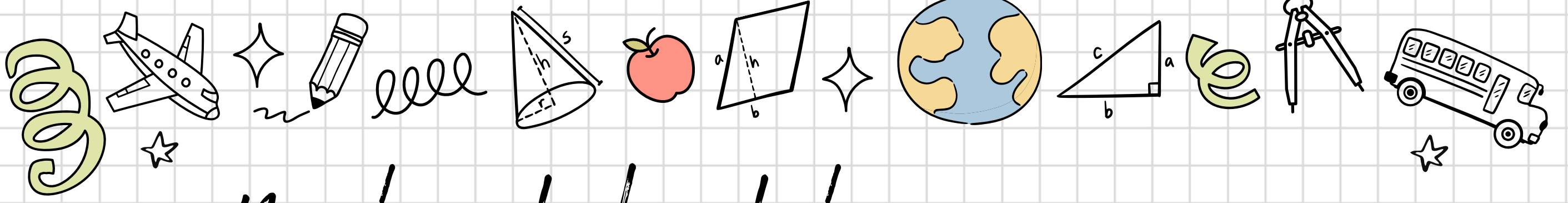
- nesdílejte na internetu bez svolení autora
- nevydávejte za svůj
- nenechte na něj prášit, dětem se určitě zalíbí a hodně toho díky němu pochopí

4. Jak materiál využívat?

- Každé dítě dostane list papíru, na kterém je několik matematických úkolů.
- Úkolem je najít spolužáka, který dokáže správně odpovědět na daný úkol, a požádat ho o podpis.
- Každý úkol musí být vyřešen jiným spolužákem, a tak se děti musí ptát ostatních, až najdou někoho, kdo zná odpověď.
- Cílem je získat všechny podpisy, nebo se snažit získat co nejvíce podpisů a správných odpovědí během určeného času.
- Kontrolu můžete provést společně pomocí řešení.

Děkuji za koupi materiálu :)
V případě dotazů mě můžete
kontaktovat [instagram.com/lucie.machej](https://www.instagram.com/lucie.machej)
Ing. Lucie Machej





Najdi někoho, kdo...

...umí spočítat
 $50 + 24 =$

Odpověď _____

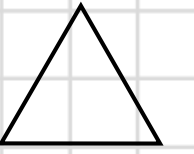
Podpis _____

...umí určit, které
číslo je větší
26 nebo 62?

Odpověď _____

Podpis _____

...ví, co je to za
tvar



Odpověď _____

Podpis _____

...umí spočítat
 $9 : 3 =$

Odpověď _____

Podpis _____

...umí spočítat
 $29 - 13 =$

Odpověď _____

Podpis _____

...umí určit, které
číslo je menší
61 nebo 63?

Odpověď _____

Podpis _____

...umí na ose
znázornit číslo 7




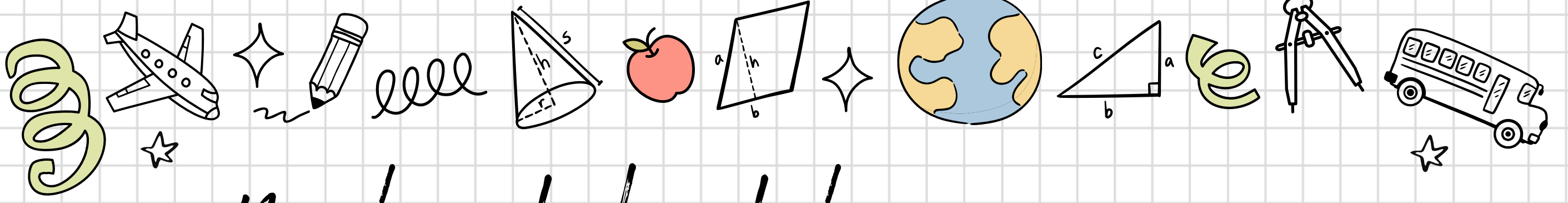
Podpis _____

...umí spočítat
 $3 \cdot 4 =$

Odpověď _____

Podpis _____





Najdi někoho, kdo...

...umí spočítat
 $14 + 31 =$

Odpověď _____

Podpis _____

...umí určit, které
 číslo je větší
 13 nebo 31?

Odpověď _____

Podpis _____

...ví, co je to za
 tvar

Odpověď _____

Podpis _____

...umí spočítat
 $16 : 4 =$

Odpověď _____

Podpis _____

...umí spočítat
 $44 - 4 =$

Odpověď _____

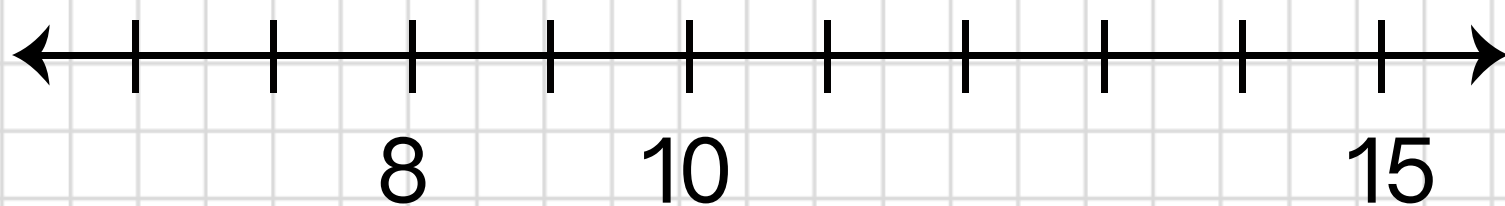
Podpis _____

...umí určit, které
 číslo je menší
 30 nebo 33?

Odpověď _____

Podpis _____

...umí na ose
 znázornit číslo 12




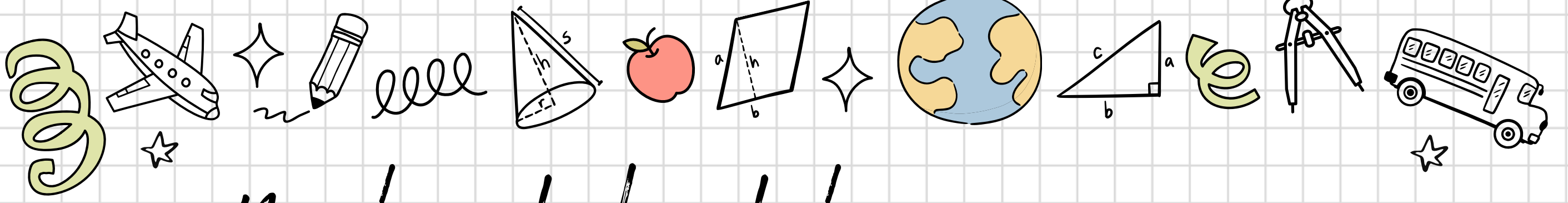
Podpis _____

...umí spočítat
 $6 \cdot 3 =$

Odpověď _____

Podpis _____





Najdi někoho, kdo...

...umí spočítat
 $25 + 22 =$

Odpověď _____

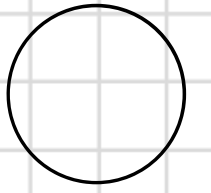
Podpis _____

...umí určit, které
číslo je větší
50 nebo 55?

Odpověď _____

Podpis _____

...ví, co je to za
tvar



Odpověď _____

Podpis _____

...umí spočítat
 $15 : 3 =$

Odpověď _____

Podpis _____

...umí spočítat
 $39 - 16 =$

Odpověď _____

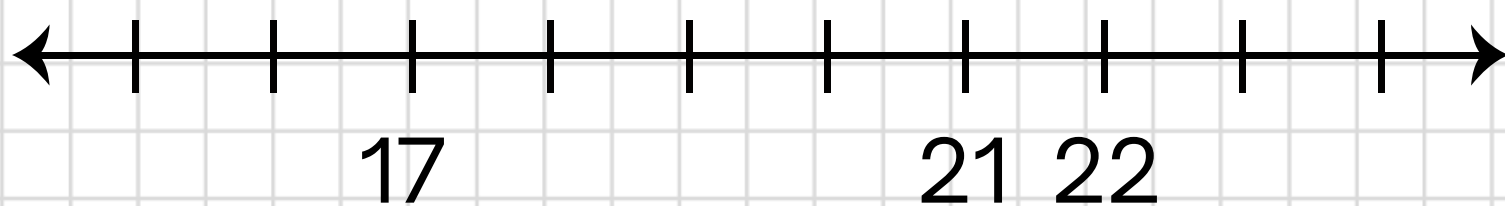
Podpis _____

...umí určit, které
číslo je menší
51 nebo 41?

Odpověď _____

Podpis _____

...umí na ose
znázornit číslo 19

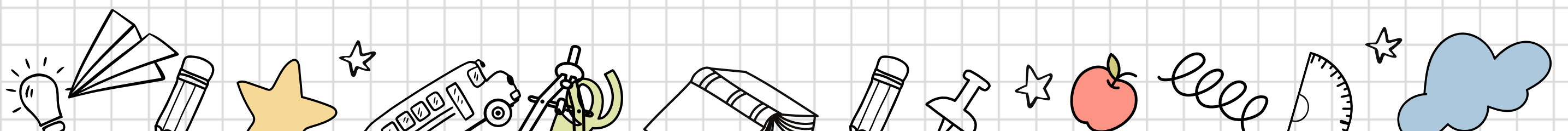


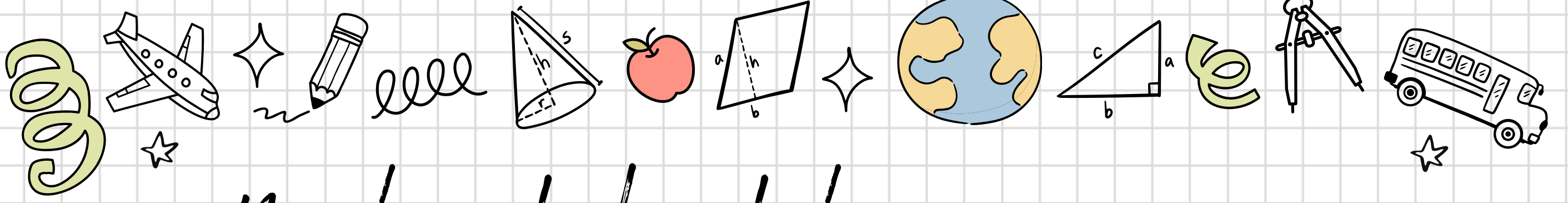
Podpis _____

...umí spočítat
 $2 \cdot 8 =$

Odpověď _____

Podpis _____





Najdi někoho, kdo...

...umí spočítat
 $51 + 9 =$

Odpověď _____

Podpis _____

...umí určit, které
číslo je větší
17 nebo 11?

Odpověď _____

Podpis _____

...ví, co je to za
tvar

Odpověď _____

Podpis _____

...umí spočítat
 $20 : 5 =$

Odpověď _____

Podpis _____

...umí spočítat
 $52 - 21 =$

Odpověď _____

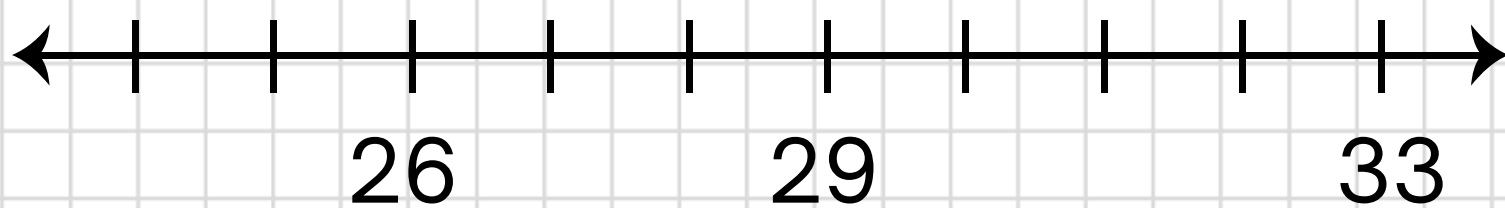
Podpis _____

...umí určit, které
číslo je menší
21 nebo 12?

Odpověď _____

Podpis _____

...umí na ose
znázornit číslo 31

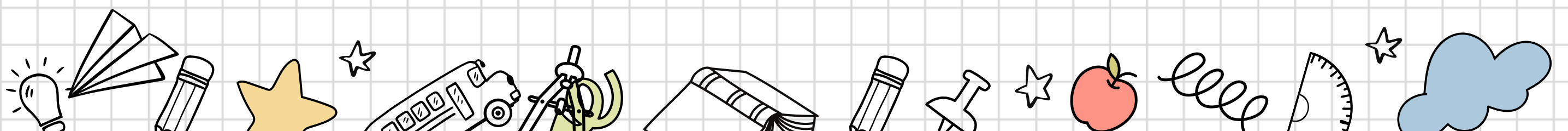


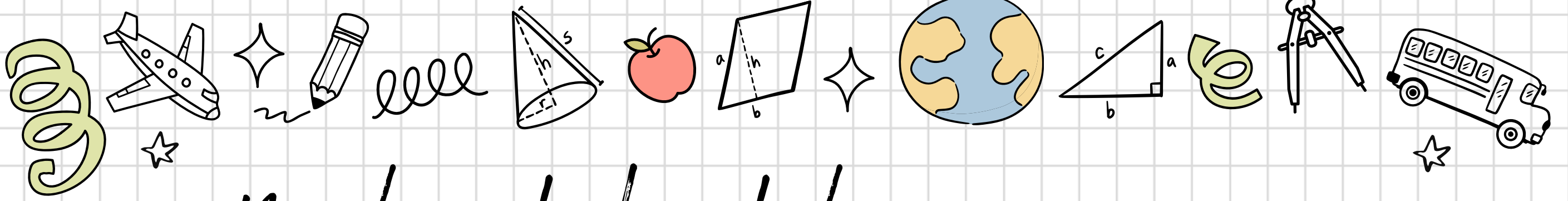
Podpis _____

...umí spočítat
 $5 \cdot 3 =$

Odpověď _____

Podpis _____





Najdi někoho, kdo...

...umí spočítat

$$37 + 12 =$$

Odpověď' _____

Podpis _____

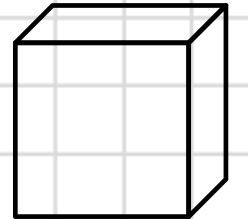
...umí určit, které

číslo je větší
23 nebo 32?

Odpověď' _____

Podpis _____

...ví, co je to za
tvar



Odpověď' _____

Podpis _____

...umí spočítat

$$18 : 3 =$$

Odpověď' _____

Podpis _____

...umí spočítat

$$40 - 9 =$$

Odpověď' _____

Podpis _____

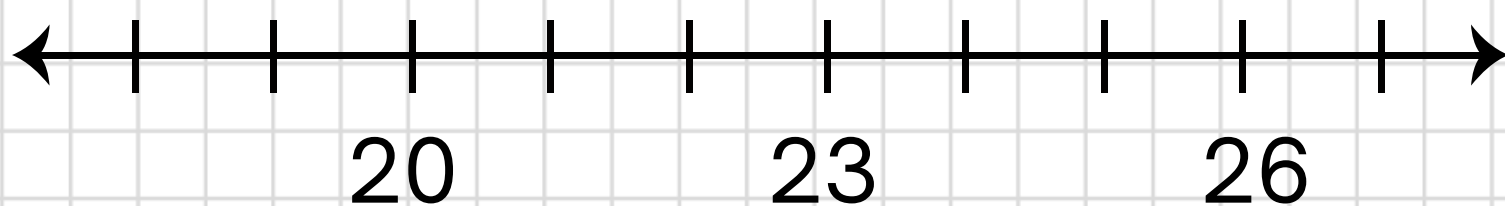
...umí určit, které

číslo je menší
70 nebo 71?

Odpověď' _____

Podpis _____

...umí na ose
znázornit číslo 22



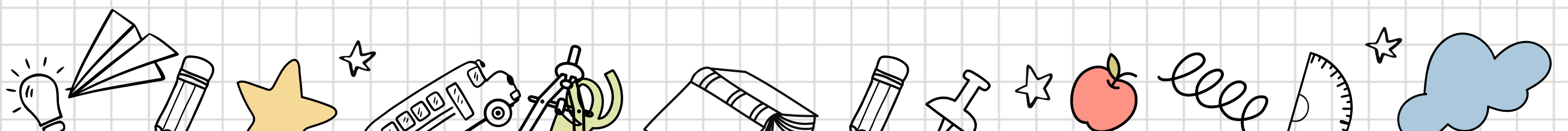
Podpis _____

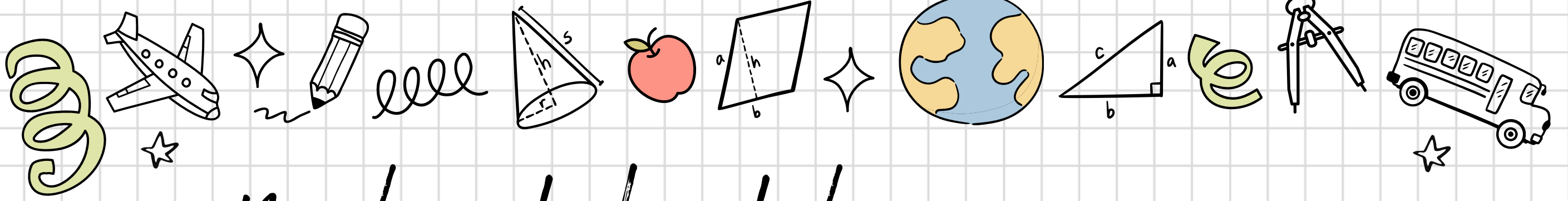
...umí spočítat

$$4 \cdot 6 =$$

Odpověď' _____

Podpis _____





Najdi někoho, kdo...

...umí spočítat
 $56 + 4 =$

Odpověď _____

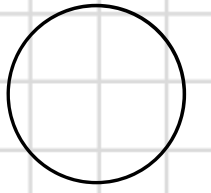
Podpis _____

...umí určit, které
číslo je větší
54 nebo 45?

Odpověď _____

Podpis _____

...ví, co je to za
tvar



Odpověď _____

Podpis _____

...umí spočítat
 $20 : 5 =$

Odpověď _____

Podpis _____

...umí spočítat
 $39 - 12 =$

Odpověď _____

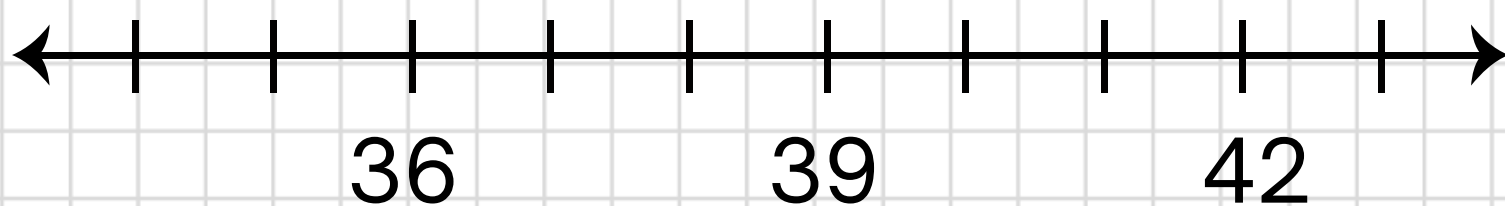
Podpis _____

...umí určit, které
číslo je menší
22 nebo 20?

Odpověď _____

Podpis _____

...umí na ose
znázornit číslo 40

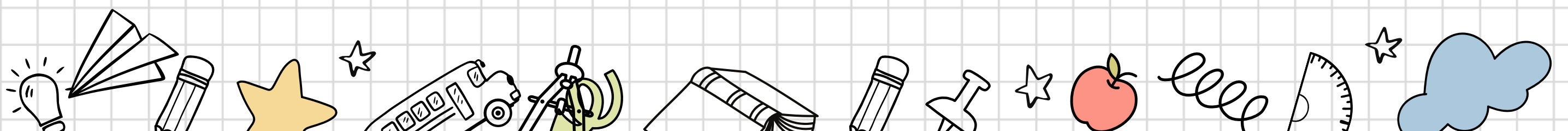


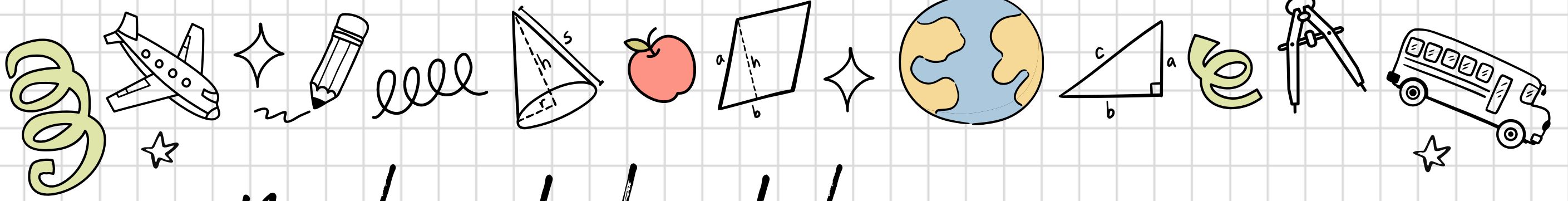
Podpis _____

...umí spočítat
 $5 \cdot 6 =$

Odpověď _____

Podpis _____





Najdi někoho, kdo...

...umí spočítat
 $21 + 28 =$

Odpověď _____

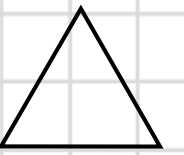
Podpis _____

...umí určit, které
číslo je větší
44 nebo 40?

Odpověď _____

Podpis _____

...ví, co je to za
tvar



Odpověď _____

Podpis _____

...umí spočítat
 $24 : 3 =$

Odpověď _____

Podpis _____

...umí spočítat
 $45 - 34 =$

Odpověď _____

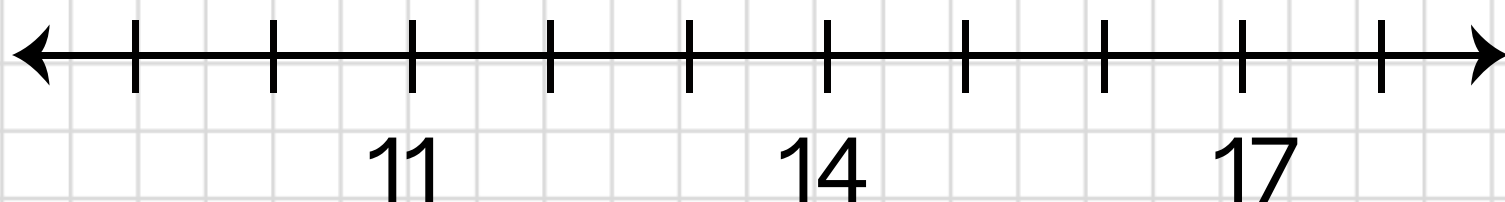
Podpis _____

...umí určit, které
číslo je menší
12 nebo 22?

Odpověď _____

Podpis _____

...umí na ose
znázornit číslo 15

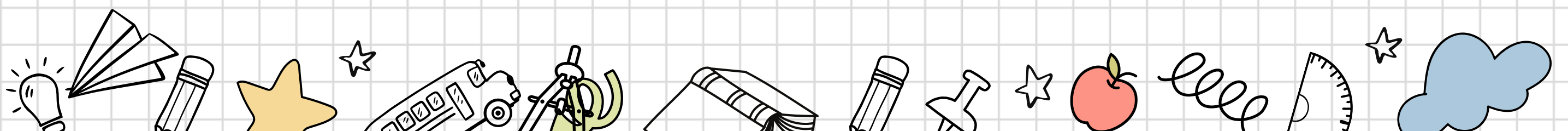


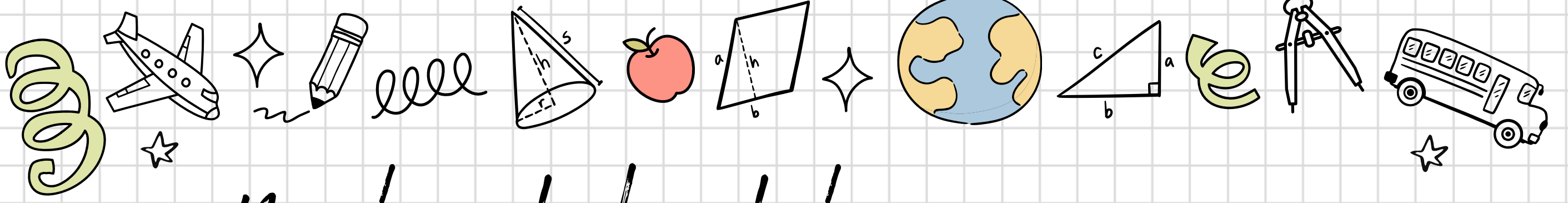
Podpis _____

...umí spočítat
 $4 \cdot 8 =$

Odpověď _____

Podpis _____





Najdi někoho, kdo...

...umí spočítat
 $50 + 24 =$

Odpověď 74

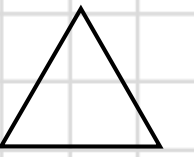
Podpis _____

...umí určit, které
číslo je větší
26 nebo 62?

Odpověď 62

Podpis _____

...ví, co je to za
tvar



Odpověď trojúhelník

Podpis _____

...umí spočítat
 $9 : 3 =$

Odpověď 3

Podpis _____

...umí spočítat
 $29 - 13 =$

Odpověď 16

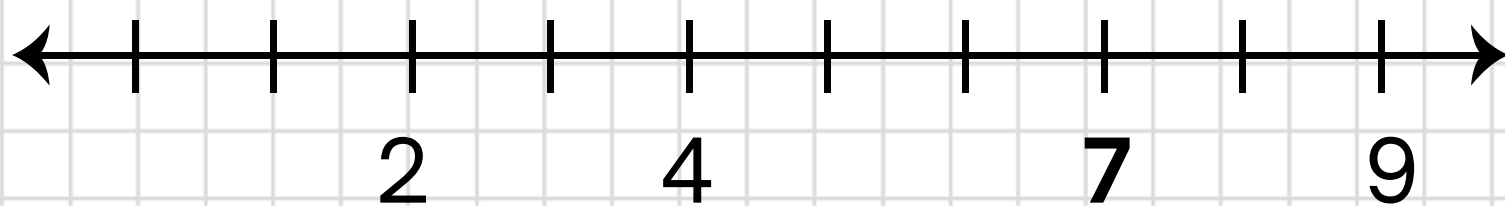
Podpis _____

...umí určit, které
číslo je menší
61 nebo 63?

Odpověď 61

Podpis _____

...umí na ose
znázornit číslo 7




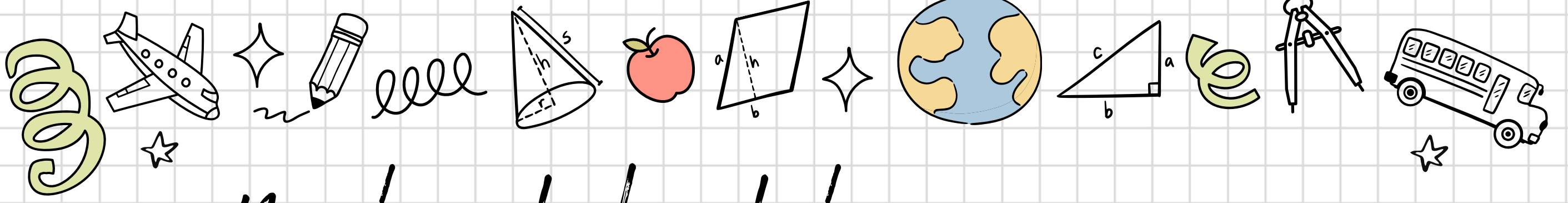
Podpis _____

...umí spočítat
 $3 \cdot 4 =$

Odpověď 12

Podpis _____





Najdi někoho, kdo...

...umí spočítat
 $14 + 31 =$


Odpověď' 45

Podpis _____

...umí určit, které
číslo je větší
13 nebo 31?

Odpověď' 31

Podpis _____

...ví, co je to za
tvar 

Odpověď' čtverec

Podpis _____

...umí spočítat
 $16 : 4 =$

Odpověď' 4

Podpis _____

...umí spočítat
 $44 - 4 =$

Odpověď' 40

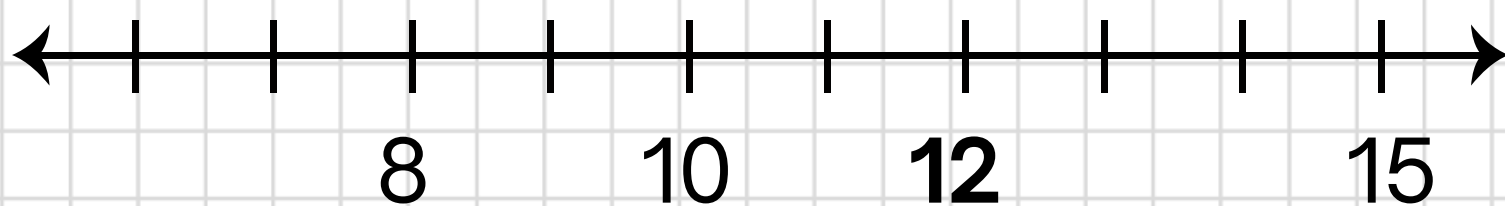
Podpis _____

...umí určit, které
číslo je menší
30 nebo 33?

Odpověď' 30

Podpis _____

...umí na ose
znázornit číslo 12

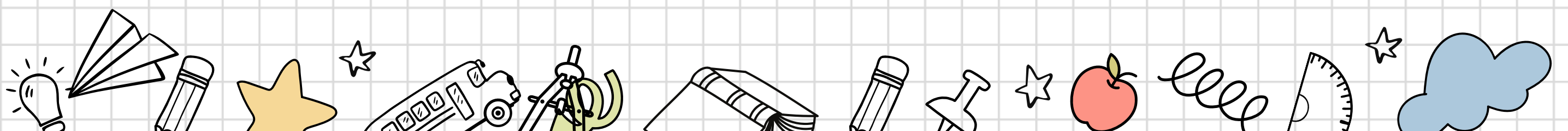


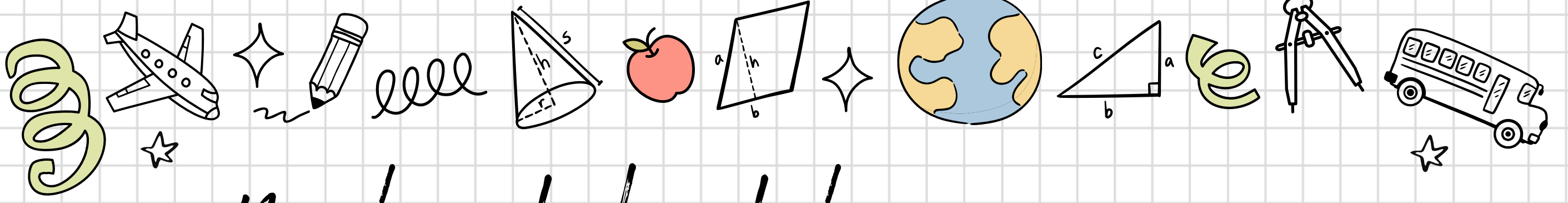
Podpis _____

...umí spočítat
 $6 \cdot 3 =$

Odpověď' 18

Podpis _____





Najdi někoho, kdo...

...umí spočítat
 $25 + 22 =$

Odpověď' 47

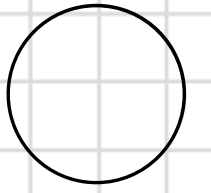
Podpis _____

...umí určit, které
číslo je větší
50 nebo 55?

Odpověď' 55

Podpis _____

...ví, co je to za
tvar



Odpověď' kruh

Podpis _____

...umí spočítat
 $15 : 3 =$

Odpověď' 5

Podpis _____

...umí spočítat
 $39 - 16 =$

Odpověď' 23

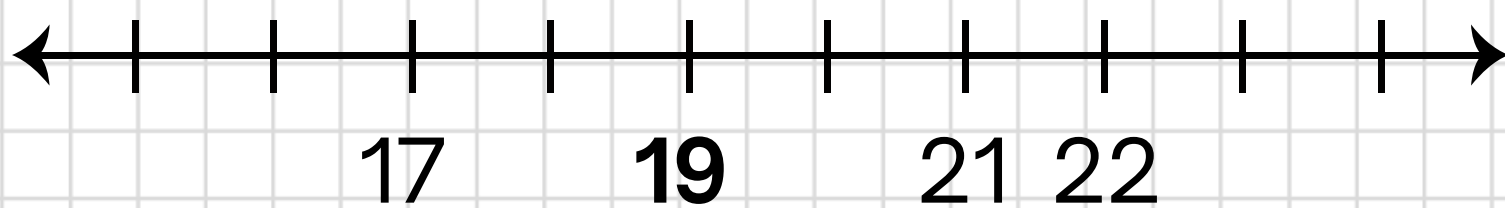
Podpis _____

...umí určit, které
číslo je menší
51 nebo 41?

Odpověď' 41

Podpis _____

...umí na ose
znázornit číslo 19

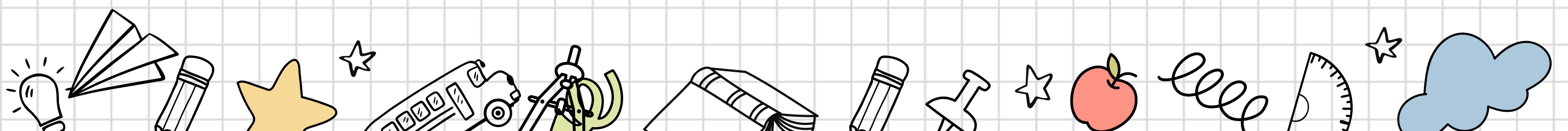


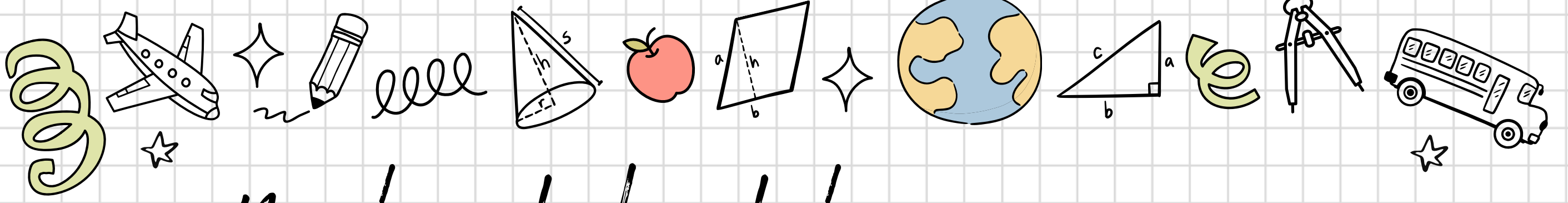
Podpis _____

...umí spočítat
 $2 \cdot 8 =$

Odpověď' 16

Podpis _____





Najdi někoho, kdo...

...umí spočítat

$$51 + 9 =$$

Odpověď' 60

Podpis _____

...umí určit, které

číslo je větší
17 nebo 11?

Odpověď' 17

Podpis _____

...ví, co je to za
tvar

Odpověď' obdélník

Podpis _____

...umí spočítat

$$20 : 5 =$$

Odpověď' 4

Podpis _____

...umí spočítat

$$52 - 21 =$$

Odpověď' 31

Podpis _____

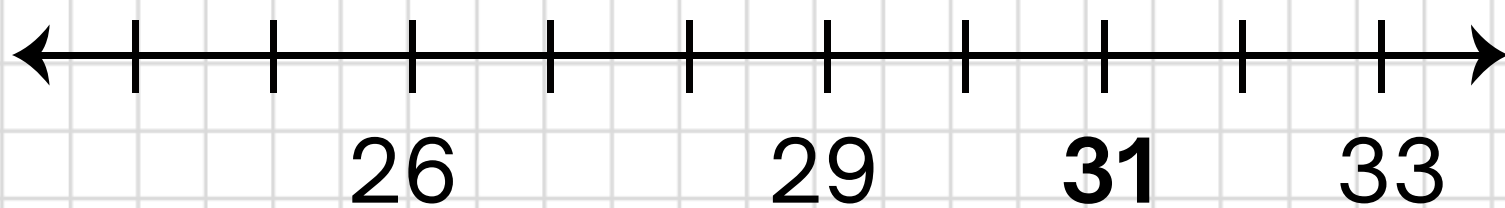
...umí určit, které

číslo je menší
21 nebo 12?

Odpověď' 12

Podpis _____

...umí na ose
znázornit číslo 31




Podpis _____

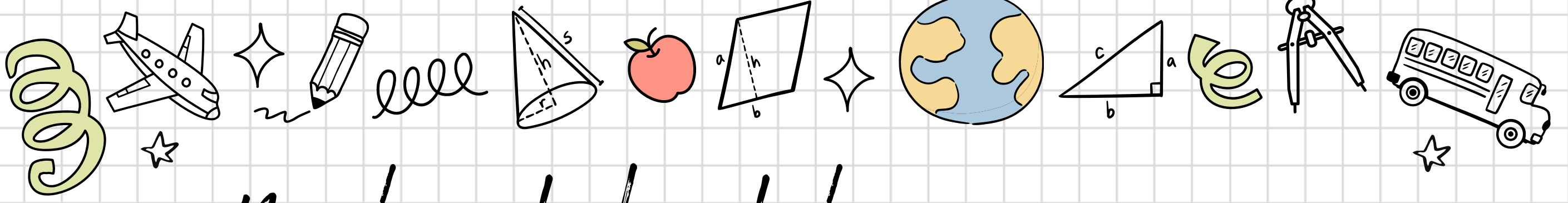
...umí spočítat

$$5 \cdot 3 =$$

Odpověď' 15

Podpis _____





Najdi někoho, kdo...

...umí spočítat

$$37 + 12 =$$

Odpověď' 49

Podpis _____

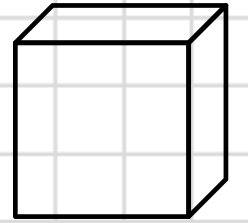
...umí určit, které

číslo je větší
23 nebo 32?

Odpověď' 32

Podpis _____

...ví, co je to za
tvar



Odpověď' krychle

Podpis _____

...umí spočítat

$$18 : 3 =$$

Odpověď' 6

Podpis _____

...umí spočítat

$$40 - 9 =$$

Odpověď' 31

Podpis _____

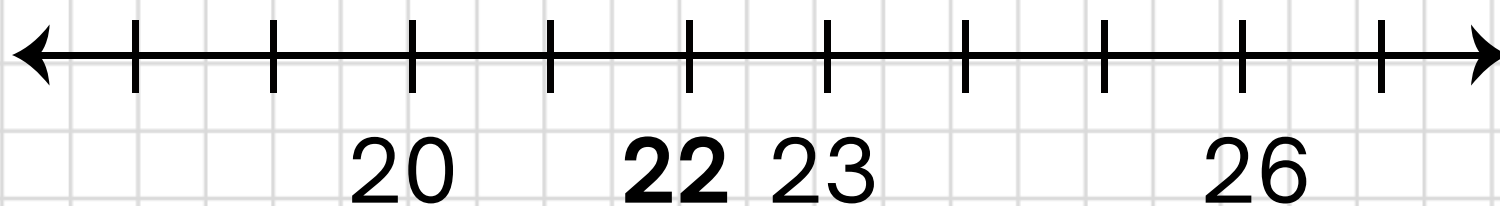
...umí určit, které

číslo je menší
70 nebo 71?

Odpověď' 70

Podpis _____

...umí na ose
znázornit číslo 22



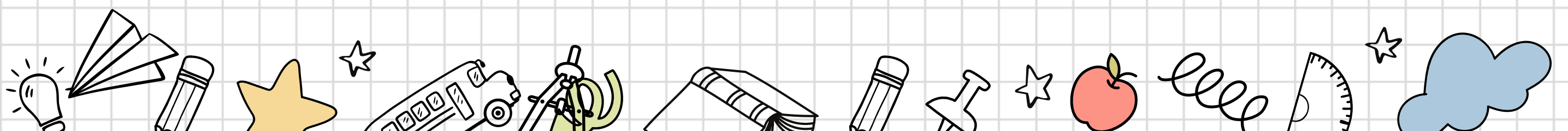
Podpis _____

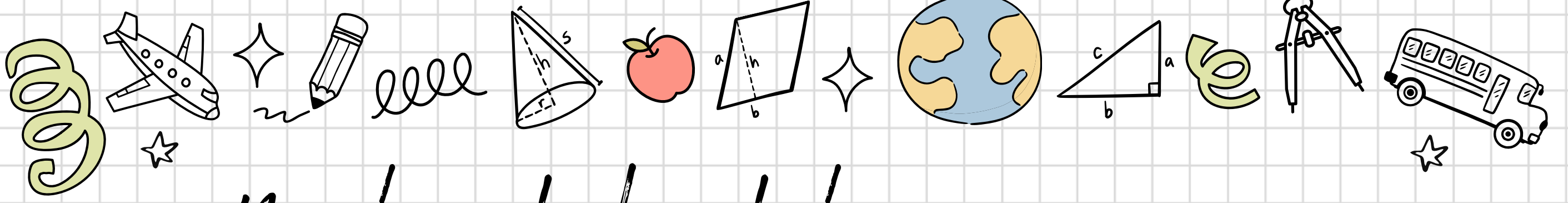
...umí spočítat

$$4 \cdot 6 =$$

Odpověď' 24

Podpis _____





Najdi někoho, kdo...

...umí spočítat

$$56 + 4 =$$

Odpověď' 60

Podpis _____

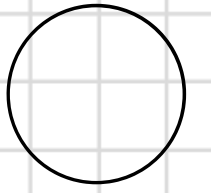
...umí určit, které

číslo je větší
54 nebo 45?

Odpověď' 54

Podpis _____

...ví, co je to za
tvar



Odpověď' kruh

Podpis _____

...umí spočítat

$$20 : 5 =$$

Odpověď' 4

Podpis _____

...umí spočítat

$$39 - 12 =$$

Odpověď' 27

Podpis _____

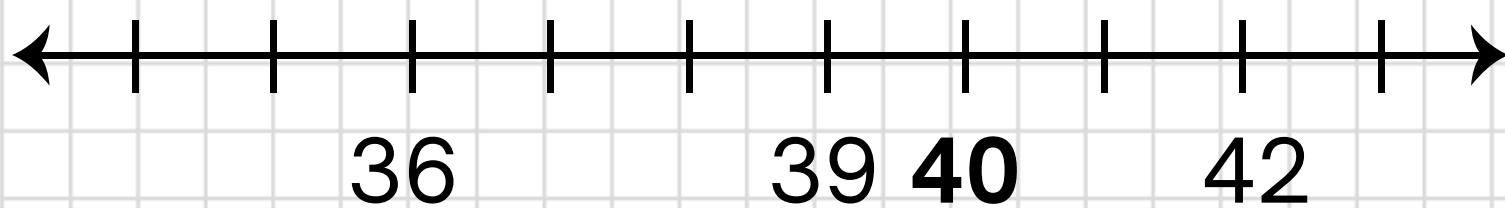
...umí určit, které

číslo je menší
22 nebo 20?

Odpověď' 20

Podpis _____

...umí na ose
znázornit číslo 40



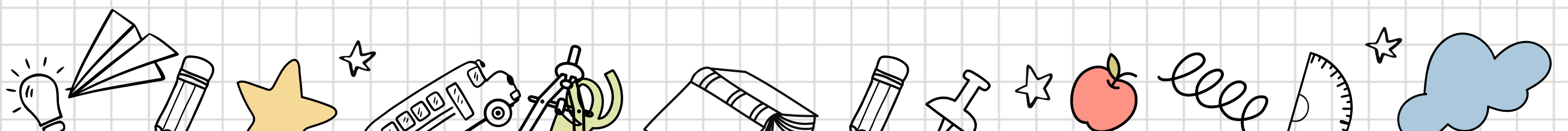
Podpis _____

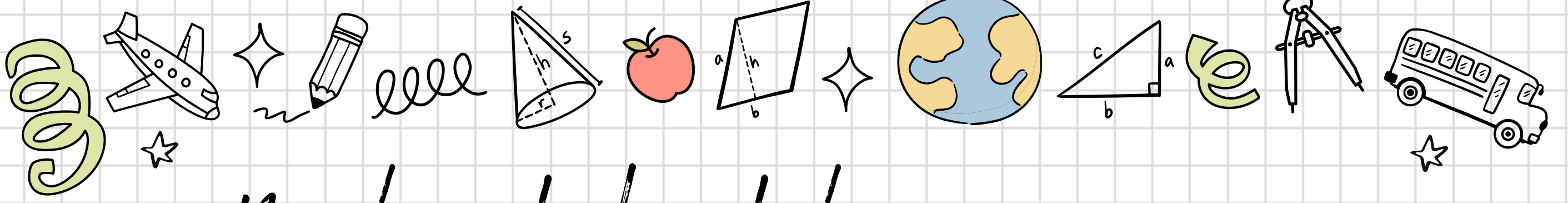
...umí spočítat

$$5 \cdot 6 =$$

Odpověď' 30

Podpis _____





Najdi někoho, kdo...

...umí spočítat
 $21 + 28 =$

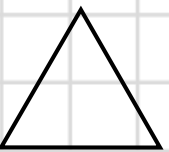
Odpověď' 49

Podpis _____

...umí určit, které
číslo je větší
44 nebo 40?

Odpověď' 44

Podpis _____

...ví, co je to za
tvar 

Odpověď' trojúhelník

Podpis _____

...umí spočítat
 $24 : 3 =$

Odpověď' 8

Podpis _____

...umí spočítat
 $45 - 34 =$

Odpověď' 11

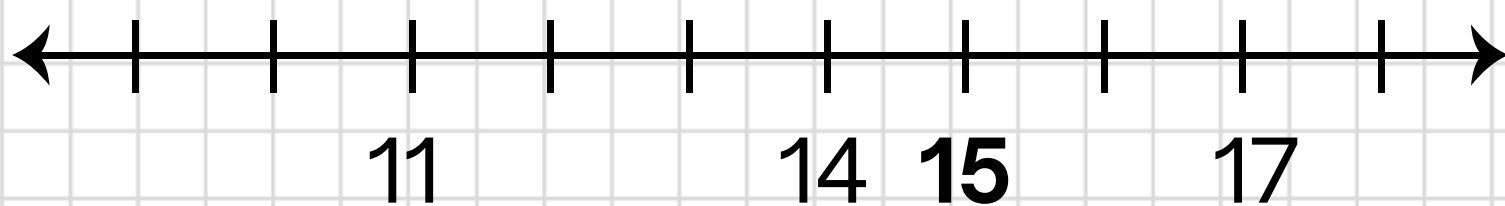
Podpis _____

...umí určit, které
číslo je menší
12 nebo 22?

Odpověď' 12

Podpis _____

...umí na ose
znázornit číslo 15



Podpis _____

...umí spočítat
 $4 \cdot 8 =$

Odpověď' 32

Podpis _____

